


Guía de trabajo Matemática 1º básico/ Capítulo 11
“Medición: la longitud”



Nombre: _____

Fecha: _____ Curso: _____ Puntaje: _____

1

Dibuja 3 lápices de diferentes tamaños desde la línea.

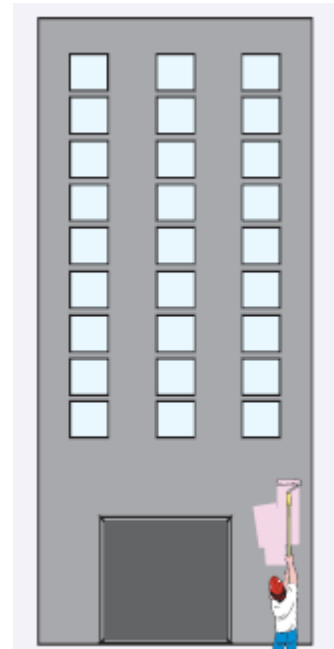
Encierre el más corto.



2

Dibuje 3 escobas desde la línea y encierre la más larga.

3 Mida con una regla los siguientes objetos.



4 Dibuje los siguientes objetos según la medida indicada.

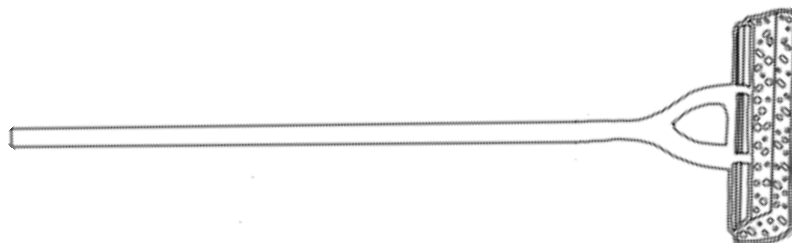
a) Una goma que mide 4 cm



b) Un bote que mide 9 cm



c) Un pincel que mide menos de 5 cm.



Recopilado 2019

