


Guía de trabajo Matemática 4º básico/ Capítulo 11
“Medición: el peso”

Nombre: _____

Fecha: _____ Curso: _____ Puntaje: _____



Dibuje la situación que se le propone y resuélvala:

Jaime tiene 500 gramos de harina para hacer pan.



Luego se le cayó al suelo la mitad de lo que tenía.



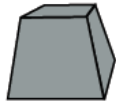
A lo que le quedó, le agregó lo que le quedaba en la bolsa, 150 gramos.



Finalmente, ¿tuvo más o tuvo menos que lo que tenía al comienzo?
Fundamente su respuesta.

¿Con cuántos gramos de harina pudo hacer el pan?

2

Complete la tabla según corresponda. Considere que  = 250 gr

Medida en palabras	Medida en números	Dibujo
	750 gramos	
		
Medio kilo		
		
	250 gramos	
1 kilo y 250 gramos		

3

Resuelva el siguiente problema:

1. Agustín pesa 20 kilos y 300 gramos. Juan pesa 19 kilos y 350 gramos.

Escriba sus pesos en gramos

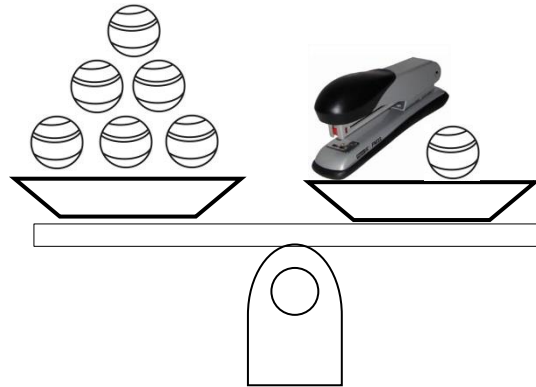
Agustin	
Juan	

2. ¿Quién pesa más?
3. ¿Cuál es la diferencia de los pesos entre Agustín y Juan? Expréselo en kilos.
4. ¿Cuál es la suma de ambos pesos? Expréselo en gramos.

4

Observe los siguientes dibujos y responda:

¿Cuánto pesa la corchetera?



= 4 500 gr

El peso de este saco con papas equivale a:



= un cuarto de kilo

El peso de esta mantequilla equivale a:

5

Una con una línea el animal con su peso estimado



200 gramos



450 kilos



23 kilos



20 gramos